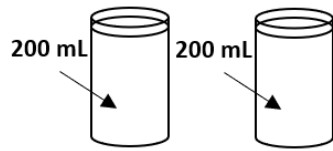
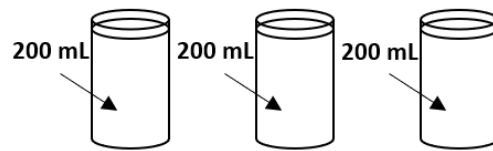


Θέμα 4^ο

α) Εάν σε **ένα** ποτήρι χωράνε **200 mL** γάλακτος, σε πόσα ποτήρια χωράνε συνολικά **400 mL** γάλακτος; Διάλεξε τη σωστή εικόνα (μονάδες 7):



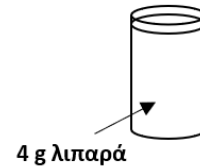
Εικόνα 1



Εικόνα 2

β) Εάν υπάρχουν **4 g** λιπαρά σε **1** γεμάτο ποτήρι γάλα, μπορείς να βρεις πόσα **g** λιπαρά θα υπάρχουν σε **2** γεμάτα ποτήρια γάλα;

(μονάδες 8)



γ) Να συμπληρώσεις τα κενά με τους κατάλληλους αριθμούς:

Εάν σε **1** ποτήρι γάλα (**200 mL**) υπάρχουν **4 g** λιπαρά, σε **μισό** ποτήρι γάλα (..... mL) υπάρχουν τα **μισά** λιπαρά (..... g), άρα η περιεκτικότητα του γάλακτος σε λιπαρά είναι % **w/v**. (μονάδες 10)

Μονάδες 25