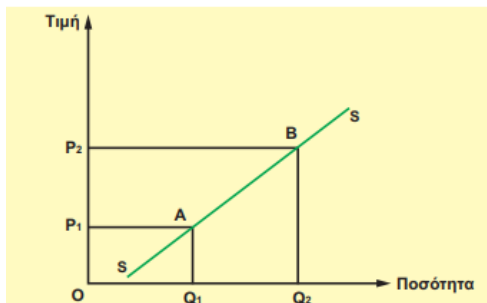


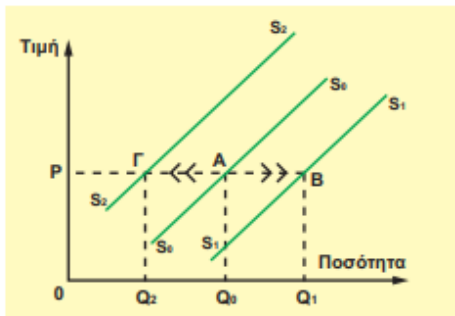
## ΑΠΑΝΤΗΣΗ ΘΕΜΑΤΟΣ 2<sup>ου</sup>

α) i. Η μεταβολή στην προσφερόμενη ποσότητα ενός αγαθού αναφέρεται στη μετακίνηση κατά μήκος της ίδιας καμπύλης προσφοράς από ένα σημείο σε άλλο, όταν μεταβάλλεται η τιμή του αγαθού, ενώ οι λοιποί προσδιοριστικοί παράγοντες παραμένουν σταθεροί. Το διάγραμμα που ακολουθεί δείχνει ότι, όταν η τιμή είναι, για παράδειγμα,  $P_1$ , η προσφερόμενη ποσότητα είναι  $Q_1$  (σημείο Α), αν η τιμή γίνει  $P_2$ , τότε η προσφερόμενη ποσότητα αυξάνεται σε  $Q_2$  (σημείο Β). Έχουμε επομένως μετακίνηση κατά μήκος της δεδομένης καμπύλης προσφοράς από το σημείο Α στο σημείο Β, που είναι συνέπεια του νόμου της προσφοράς



(μον. 6).

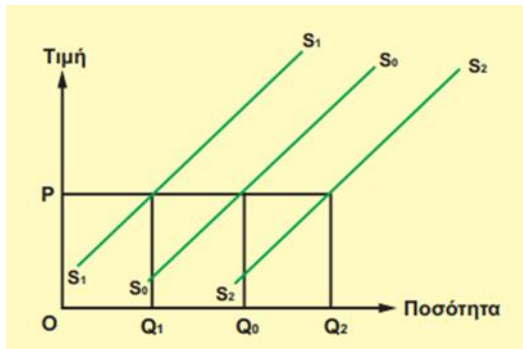
ii. Η μεταβολή στην προσφορά αναφέρεται στη μετατόπιση ολόκληρης της καμπύλης προσφοράς. Αυτό συμβαίνει, όταν η τιμή παραμένει σταθερή και μεταβάλλεται κάποιος άλλος προσδιοριστικός παράγοντας της προσφοράς. Στο παρακάτω διάγραμμα έχουμε στη δεδομένη τιμή  $P_1$  μετατόπιση της καμπύλης προσφοράς προς τα δεξιά, στη θέση  $S_1$ , δηλαδή αύξηση της προσφοράς λόγω ευνοϊκής εξέλιξης στους παράγοντες προσφοράς και μετατόπιση της καμπύλης προσφοράς προς τα αριστερά, στη θέση  $S_2$ , δηλαδή μείωση της προσφοράς, λόγω δυσμενούς εξέλιξης στους προσδιοριστικούς παράγοντες της προσφοράς



(μον. 6).

(Μονάδες 12)

**β)** Οι καιρικές συνθήκες. Η σημασία του συγκεκριμένου παράγοντα σχετίζεται κυρίως με την παραγωγή και την προσφορά γεωργικού προϊόντος. Η επίδραση αυτή είναι σημαντική για χώρες που παράγουν κυρίως γεωργικά προϊόντα. Οι καλές καιρικές συνθήκες για την παραγωγή των αγαθών αυξάνουν την προσφορά και μετατοπίζουν την καμπύλη προσφοράς προς τα κάτω και δεξιά, ενώ οι δυσμενείς μειώνουν την προσφορά και μετατοπίζουν την καμπύλη προσφοράς προς τα πάνω και αριστερά όπως φαίνεται στο παρακάτω διάγραμμα.



(Μονάδες 13)