


ΘΕΜΑ 2^ο

2.1 Με βάση το Σχήμα 1 που απεικονίζει τα μέρη ενός λέβητα τύπου ατομικής μονάδας, να γράψετε τους αριθμούς 1, 2, 3, 4 από τη Στήλη Α και δίπλα ένα από τα γράμματα α, β, γ, δ, της Στήλης Β που δίνει τη σωστή αντιστοίχιση.



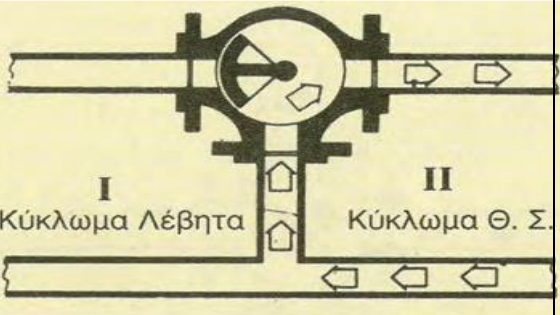
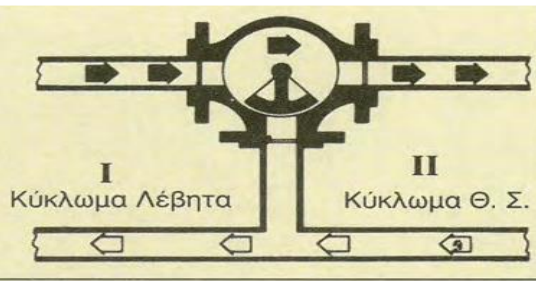
Σχήμα 1

ΣΤΗΛΗ Α	ΣΤΗΛΗ Β
1.	α) Καυστήρας.
2.	β) Χαλύβδινος λέβητας.
3.	γ) Κλειστό δοχείο διαστολής.
4.	δ) Κυκλοφορητής.

Μονάδες 16

2.2 Να γράψετε τους αριθμούς 1, 2, 3, από τη Στήλη Α και δίπλα ένα από τα γράμματα α, β, γ, της Στήλης Β που δίνει τη σωστή αντιστοίχιση.

ΣΤΗΛΗ Α	ΣΤΗΛΗ Β
1. Τρίοδη βάννα με πεταλούδα σε ενδιάμεση θέση.	α)

	
2. Τρίοδη βάνα κλειστή.	<p>β)</p> 
3. Τρίοδη βάνα ανοικτή.	<p>γ)</p> 