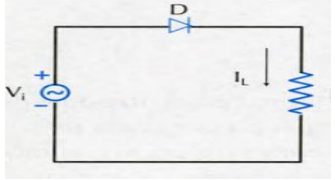
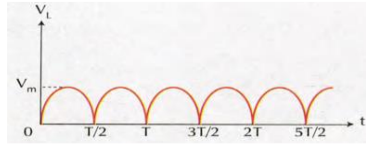
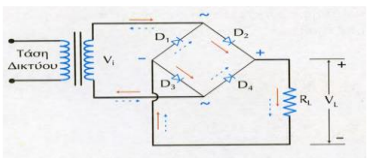
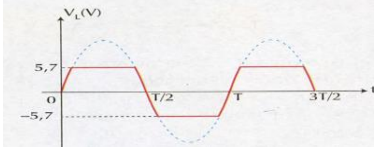
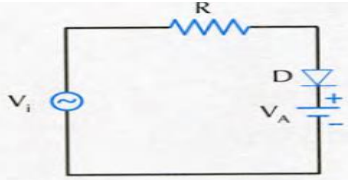
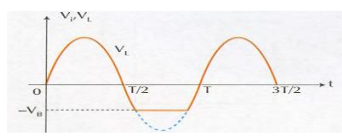
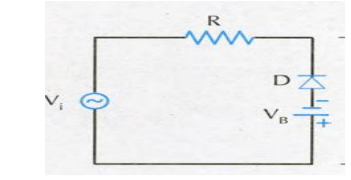
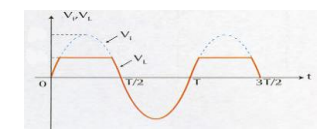
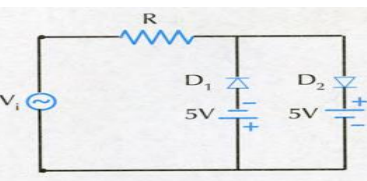
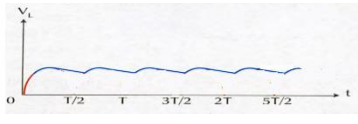
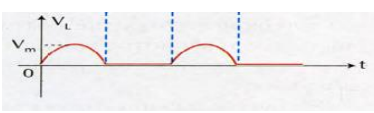


Θέμα 2^ο

2.1 Να γράψετε στην κόλλα σας τους αριθμούς 1,2,3,4,5 από τη στήλη Α (κυκλώματα με διόδους) και δίπλα ένα από τα γράμματα α,β,γ,δ,ε,στ της στήλης Β (κυματομορφές εξόδου) που δίνει τη σωστή αντιστοίχιση. Σημειώνεται ότι ένα γράμμα από τη στήλη Β θα περισσέψει.

Στήλη Α	Στήλη Β
<p>1.</p> 	<p>α.</p> 
<p>2.</p> 	<p>β.</p> 
<p>3.</p> 	<p>γ.</p> 
<p>4.</p> 	<p>δ.</p> 
<p>5.</p> 	<p>ε.</p> 
	<p>στ.</p> 

Μονάδες 15

2.2 Να σχεδιάσετε ένα κύκλωμα σταθεροποίησης με δίοδο Zener.

Μονάδες 10